

Игра «Всезнайка» № 2

1. Продолжи закономерность:

- 21, 17, 13,
- 4, 5, 8, 9, 12, 13,
- 1, 3, 5, 7,
- 6, 9, 12, 15,

2. Назови сказочных героев

- А
- Б
- В
- Г

3. Покажи стрелками отношения
«Я следую перед тобой»



4. Заполни кроссворд подходящими словами

				д
				д
				д
				д

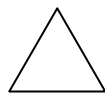
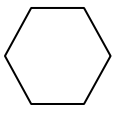
5. Найди лишнее слово в строчке.

- Сын, друг, бабушка, папа
- Стул, кресло, стол, диван
- Сыр, мясо, кефир, масло
- Берёза, сосна, клён, тополь
- Каша, папа, небо, земля

6. Найди сумму чисел.

3	VI	9	V	18
II	36			
10	5	X	8	27

7. Найди закономерность и сделай чертеж

кошка	дом	море	ученик
			

8. Определи кто эти люди,
соедини стрелками

Бетховен
Шишкин
Сладков
Чайковский
Саврасов
Пришвин
Андерсен



Григ
Васнецов
Чуковский
Левитан
Чарушин
Римский – Корсаков
Айвазовский

9. Объедини слова в пары стрелками
лес огонь сила бор селение зной

пламя деревня жара мощь

11. Напиши как можно больше профессий
на букву П

.....

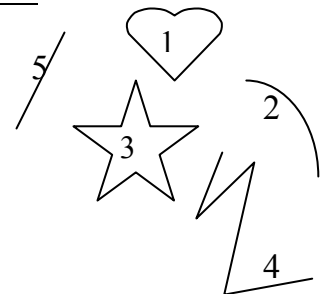
.....

.....

.....

10. Напиши номера линий, которым
подходят названия:

- прямая
- ломаная
- кривая
- замкнутая



Игра «Всезнайка» № 2 (ответы)

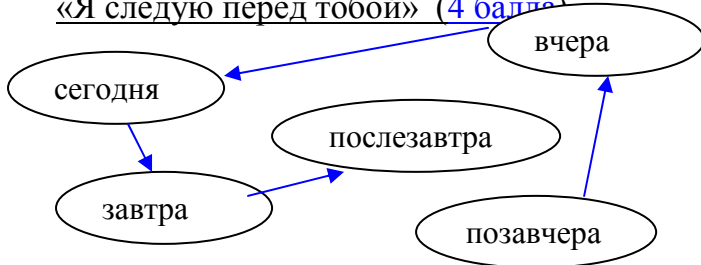
1. Продолжи закономерность: (4 балла)

21, 17, 13, 9, 5, 1
 4, 5, 8, 9, 12, 13, 16, 17, 20, 21, 24, 25
 1, 3, 5, 7, 9, 11, 13, 15, 17, 19
 6, 9, 12, 15, 18, 21, 24, 27, 30

2. Назови сказочных героев (4 балла)

А
 Б
 В
 Г

3. Покажи стрелками отношения «Я следую перед тобой» (4 балла)



4. Заполни кроссворд подходящими словами (4 балла)

	к	л	а	д
х	о	л	о	д
г	о	р	о	д
г	о	л	о	д

5. Найди лишнее слово в строчке. (5 баллов)

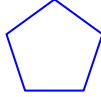
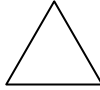

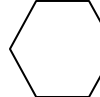
- Сын, друг, бабушка, папа
- Стул, кресло, стол, диван
- Сыр, мясо, кефир, масло
- Берёза, сосна, клён, тополь
- Каша, папа, небо, земля

6. Найди сумму чисел. (1 балл)

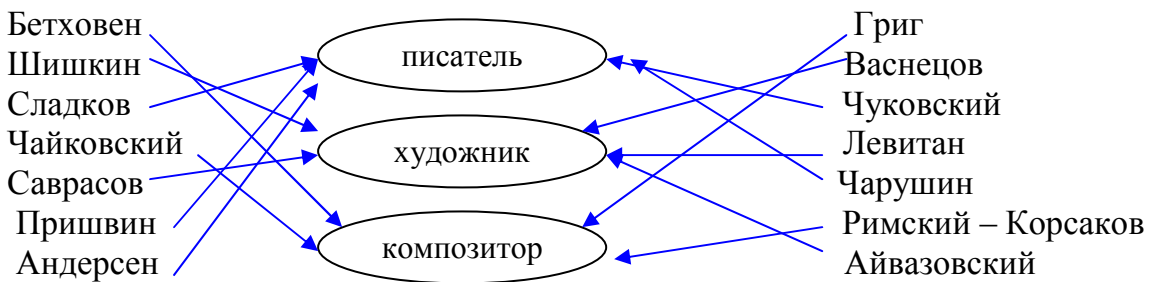
3	VI	9	V	18
II	36	8	V	
11	5	X	27	

71

7. Найди закономерность и сделай чертеж (2 балла)

кошка	дом	море	ученик
			

8. Определи кто эти люди, соедини стрелками (14 баллов)

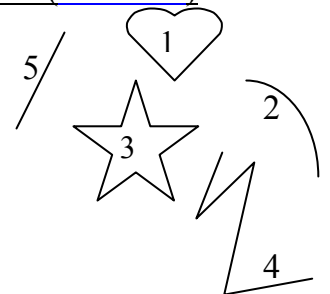


9. Объедини слова в пары стрелками (5 баллов)

лес огонь сида бор селение зной
 пламя деревня жара мощь

10. Напиши номера линий, которым подходят названия: (7 баллов)

прямая 5
 ломаная 3, 4
 кривая 1, 2
 замкнутая 1, 3



11. Напиши как можно больше профессий на букву П (по кол-ву профессий)

.....

Итого: 50 + (из № 11)