

Тесты к разделу «Природа»

ТЕСТ №1

ТЕМА: «НЕЖИВАЯ И ЖИВАЯ ПРИРОДА»

ВАРИАНТ 1

ФАМИЛИЯ, ИМЯ _____

1. Что составляет природу? Обведи нужную букву.

- а) весь окружающий мир;
- б) все, что нас окружает и не сделано руками человека;
- в) растения и животные.

2. Установи соответствие.

	дерево
	камень
ПРИРОДА	дом
	завод
НЕ ПРИРОДА	волк
	шкаф

3. К какой природе относятся перечисленные названия тел?

Допиши предложение

- Камен, сосулька, облако, глина, песчинка – это _____
- Береза, жук, лягушка, колокольчик, лиса – это _____

4. Что необходимо для всего живого на земле? Вычеркни лишнее.

Солнце, вода, воздух, луна.

5. Какой объект природы лишний? Подчеркните его.

Скворец, кузнечик, берёза, тюльпан, луна, волк.

Тесты к разделу «Природа»
ТЕСТ №1
ТЕМА: «НЕЖИВАЯ И ЖИВАЯ ПРИРОДА»
ВАРИАНТ 2

ФАМИЛИЯ, ИМЯ _____

1. Что составляет природу? Обведи нужную букву.

- а) весь окружающий мир;
- б) все, что нас окружает и не сделано руками человека;
- в) растения и животные.

2. Установи соответствие.

	гриб
ПРИРОДА	вода
	стул
	бабочка
НЕ ПРИРОДА	ручка
	телефон

3. К какой природе относятся перечисленные названия тел?

Напиши

- Звезда, снежинка, вода, солнце, воздух – это _____
- Липа, змея, сорока, одуванчик, кузнечик – это _____

4. В чём отличие элементов живой природы? Вычеркни лишнее.

Дышат, размножаются, говорят, растут, питаются, умирают.

5. Какой объект природы лишний? Подчеркните его.

Ландыш, ворона, пчела, дуб, астра, дождь, жираф.

Тесты к разделу «Природа»
ТЕСТ №3
ТЕМА: «В ГОСТИ К ОСЕНИ»
ВАРИАНТ 1

ФАМИЛИЯ, ИМЯ _____

1. Запиши по порядку следующие за осенью времена года:

Осень, _____, _____, _____.

2. Обведи кружком букву правильного ответа. Осенью:

- а) день становится короче;
- б) солнце встает раньше;
- в) ночь становится короче.

3. Какое основное осеннее изменение происходит в неживой природе? Обведи нужную букву.

- а) потепление;
- б) грозы;
- в) похолодание;
- г) начало учебного года;
- д) листопад.

4. Кто и что готовит на зиму? Соедини стрелками.

БАРСУК

зерно

МЫШИ

грибы, орехи

БЕЛКИ

жир

ПЧЕЛЫ

мёд

5. Подчеркни перелетных птиц одной чертой, а зимующих птиц – двумя чертами.

Голубь, аист, стриж, ворона, клёт, сорока, грач, жаворонок.

*6. Обведи кружком букву правильного ответа.

Первыми на юг улетают:

- а) водоплавающие;
- б) насекомоядные.

Тесты к разделу «Природа»

ТЕСТ №3

ТЕМА: «В ГОСТИ К ОСЕНИ»

ВАРИАНТ 2

ФАМИЛИЯ, ИМЯ _____

1. Запиши цифрами порядок осенних месяцев:

октябрь

сентябрь

ноябрь

2. Как осенью солнце поднимается над горизонтом по сравнению с летом? Обведи нужную букву.

- а) выше, чем летом;
- б) так же, как летом;
- в) ниже, чем летом.

3. Какие осенние изменения происходят в неживой природе. Обведи кружком все буквы правильных ответов.

- а) заморозки;
- б) цветение растений;
- в) похолодание;
- г) листопад;
- д) иней.

4. Кто и что готовит на зиму? Соедини стрелками.

БОБРЫ

зерно

МЕДВЕДЬ

мёд

ХОМЯКИ

ветки деревьев

ПЧЕЛЫ

жир

5. Подчеркни перелетных птиц одной чертой, а зимующих птиц – двумя чертами.

Скворец, журавль, синица, соловей, воробей, кукушка, ворона, ласточка.

*6. Обведи кружком букву правильного ответа.

На юге перелётные птицы:

- а) выют гнёзда;
- б) не выют гнёзда.

Тесты к разделу «Природа»

ТЕСТ №4

ТЕМА: «ЗАГЛЯНЕМ В КЛАДОВЫЕ ЗЕМЛИ»

ВАРИАНТ 1

ФАМИЛИЯ, ИМЯ _____

1. Из каких минералов состоит гранит? Заполни схему.



2. Отгадай загадку. Напиши отгадку.

Этот мастер белый – белый
В школе не лежит без дела:
Пробегают по доске,
Оставляет белый след.

(. . .)

3. Что относится к неживой природе? Допиши предложение.

Природное тело однородное по составу – это _____

4. Подчеркни одной чертой названия горных пород, двумя – минералов.

Полевой шпат, гранит, кремень, кварц, глина, песок.

5. Установи соответствие.

**СТРОИТЕЛЬНЫЕ
МАТЕРИАЛЫ**

**МАТЕРИАЛЫ ДЛЯ
УКРАШЕНИЙ**

жемчуг

глина

мрамор

известняк

песок

бирюза

Тесты к разделу «Природа»

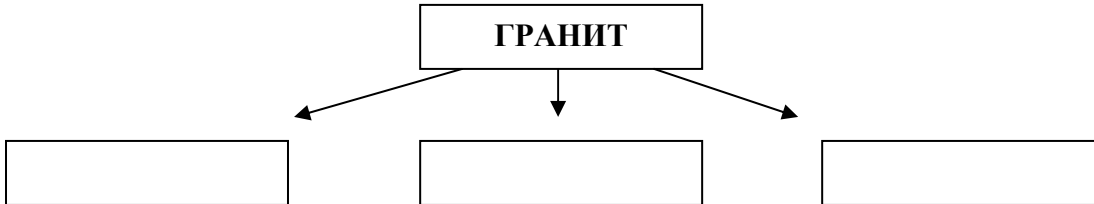
ТЕСТ №4

ТЕМА: «ЗАГЛЯНЕМ В КЛАДОВЫЕ ЗЕМЛИ»

ВАРИАНТ 2

ФАМИЛИЯ, ИМЯ _____

1. Из каких минералов состоит гранит? Заполни схему.



2. Отгадай загадку. Напиши отгадку.

Он очень нужен детворе,
Он на дорожках во дворе,
Он и на стройке и на пляже,
Он и в стекле расплавлен даже

(.)

3. Что относится к неживой природе? Допиши предложение.

Природное тело, состоящее из нескольких минералов – это _____

4. Подчеркни одной чертой названия горных пород, двумя – минералов.

Известняк, кварц, песок, мел, гранит, слюда, мрамор.

5. Установи соответствие.

СТРОИТЕЛЬНЫЕ МАТЕРИАЛЫ	гранит
	песок
МАТЕРИАЛЫ ДЛЯ УКРАШЕНИЙ	мел
	хрусталь
	глина
	янтарь

Тесты к разделу «Природа»

ТЕСТ №5

ТЕМА: «КАКИЕ БЫВАЮТ РАСТЕНИЯ?»

ВАРИАНТ 1

ФАМИЛИЯ, ИМЯ _____

1. Соедини стрелками название признака и название группы растений.

Один твёрдый ствол	кустарник
Один или несколько сочных, мягких, неодревесневших стеблей	дерево
Несколько тонких деревянистых стеблей	травянистое растение

2. Какой признак является главным для дерева? Обведи нужную букву.

- а) один твердый ствол;
- б) много веток и листьев;
- в) дерево высокое.

3. Какое растение в каждой строке «чужое»? Вычеркните его. Назови группу оставшихся растений.

- Орешник, шиповник, смородина, ель, крыжовник – это _____
- Липа, сосна, берёза, рябина, тополь – это _____
- Крапива, одуванчик, осина, ландыш, колокольчик – это _____

4. Как отличить хвойное дерево от лиственного? Обведи нужную букву.

- а) у хвойных деревьев нет листьев, а у лиственных есть листья;
- б) у хвойных деревьев ствол коричневый, а у лиственных белый;
- в) у хвойных деревьев листья в виде иголок, а у лиственных в виде пластинок.

5. Покажи стрелками, к какой группе относятся данные растения:

ЛИСТВЕННЫЕ РАСТЕНИЯ	берёза
	ель
	рябина
ХВОЙНЫЕ РАСТЕНИЯ	сосна
	лиственница
	липа

*6. Допиши предложения.

К зиме стволы деревьев _____

К зиме стебли трав _____

К зиме стебли кустарников _____

Слова помощники: не изменяются, увядают, отмирают, остаются живыми.

Тесты к разделу «Природа»

ТЕСТ №5

ТЕМА: «КАКИЕ БЫВАЮТ РАСТЕНИЯ?»

ВАРИАНТ 2

ФАМИЛИЯ, ИМЯ _____

1. Соедини стрелками название признака и название группы растений.

Один твёрдый ствол	кустарник
Один или несколько сочных, мягких, неодревесневших стеблей	дерево
Несколько тонких деревянистых стеблей	травянистое растение

2. Какой признак является главным для кустарника? Обведи нужную букву.

- а) меньше дерева;
- б) много тонких, деревянистых стеблей;
- в) имеет цветки.

3. Какое растение в каждой строке «чужое»? Вычеркните его. Назови группу оставшихся растений.

- Берёза, сосна, липа, тополь, орешник, дуб – это _____
- Ромашка, клевер, подорожник, шиповник, репейник – это _____
- Калина, крыжовник, лиственница, смородина, рябина – это _____

4. Какой группе растений принадлежат эти признаки? Напиши её название.

Листья в виде пластинок у _____.

Листья в виде иголок у _____.

5. Покажи стрелками, к какой группе относятся данные растения:

Лиственные растения	дуб
	пихта
	сосна
Хвойные растения	калина
	клён
	можжевельник

*6. Допиши предложения.

К зиме стволы деревьев _____.

К зиме стебли трав _____.

К зиме стебли кустарников _____.

Слова помощники: не изменяются, увядают, отмирают, остаются живыми.

Тесты к разделу «Природа»
ТЕСТ №6
ТЕМА: «КАКИЕ БЫВАЮТ ЖИВОТНЫЕ?»
ВАРИАНТ 1

ФАМИЛИЯ, ИМЯ _____

1. Кто в ряду «чужой»? Вычеркни его. Назови одним словом оставшиеся тела. Допиши предложение.

- Комар, щука, лягушка, чашка, синица, медведь – это _____

2. Обведи кружком все буквы правильных ответов. У животных есть:

- а) лапы;
- б) ноги;
- в) руки;
- г) крылья.

3. Соедини стрелками название признака и название группы животных.

тело, покрытое перьями, две ноги, большинство летает

РЫБЫ

тело, покрытое чешуей, живут в воде, плавают

ЗВЕРИ

тело покрыто шерстью, четыре ноги

ПТИЦЫ

4. Сколько ног у насекомых? Обведи нужную букву.

- а) 4 ноги;
- б) 8 ног;
- в) 6 ног.

5. Какое животное относится к рыбам? Обведи нужную букву.

- а) дельфин;
- б) бегемот;
- в) карп.

6. Какое животное относится к земноводным? Обведи нужную букву.

- а) ящерица;
- б) лягушка;
- в) носорог;

Тесты к разделу «Природа»

ТЕСТ №6

ТЕМА: «КАКИЕ БЫВАЮТ ЖИВОТНЫЕ?»

ВАРИАНТ 2

ФАМИЛИЯ, ИМЯ _____

1. Кто в ряду «чужой»? Вычеркни его. Назови одним словом оставшиеся тела. Допиши предложение.

- Божья коровка, карась, черепаха, черёмуха, пингвин, волк – это _____

2. Обведи кружком все буквы правильных ответов. Животные живут:

- а) в гнёздах;
- б) в домиках;
- в) в норах.

3. Соедини стрелками название признака и название группы животных.

шесть ног, летают или ползают

тело покрыто перьями, две ноги, большинство летает

тело покрыто шерстью, четыре ноги

ЗВЕРИ

ПТИЦЫ

НАСЕКОМЫЕ

4. Чем покрыто тело у рыб? Обведи нужную букву.

- а) шерстью;
- б) чешуёй;
- в) перьями.

5. Какое животное относится к насекомым? Обведи нужную букву.

- а) паук;
- б) снегирь;
- в) червь.

6. Какое животное относится к птицам? Обведи нужную букву.

- а) колибри;
- б) жираф;
- в) питон.

Тесты к разделу «Жизнь города и села»

ТЕСТ №7

ТЕМА: «ЧТО ТАКОЕ ЭКОНОМИКА?»

ВАРИАНТ 1

ФАМИЛИЯ, ИМЯ _____

1. Что такое экономика? Обведи нужную букву.

- а) экономика – это промышленность;
- б) экономика – это хозяйство;
- в) экономика – это деньги.

2. Обведи кружком все буквы правильных ответов. Отрасли экономики:

- а) торговля;
- б) сельское хозяйство;
- в) скотоводство;
- г) промышленность;
- д) строительство;
- е) транспорт.

3. Соедини стрелками название признака и название вида экономики.

производство одежды,
обуви, посуды

перевозка людей и грузов

выращивание культурных
растений

ТРАНСПОРТ

СЕЛЬСКОЕ
ХОЗЯЙСТВО

ПРОИЗВОДСТВО

4. Что относится к продукции сельского хозяйства? Вычеркни лишнее.

Картофель, зерно, мёд, автомобиль, молоко, мясо.

5. Из каких металлов изготавливали монеты? Дополни список.

Монеты изготавливали из серебра, _____, _____, _____.

Тесты к разделу «Жизнь города и села»

ТЕСТ №7

ТЕМА: «ЧТО ТАКОЕ ЭКОНОМИКА?»

ВАРИАНТ 2

ФАМИЛИЯ, ИМЯ _____

1. Что такое экономика? Обведи нужную букву.

- а) экономика – это промышленность;
- б) экономика – это хозяйство;
- в) экономика – это деньги.

2. Обведи кружком все буквы правильных ответов. Отрасли экономики:

- а) транспорт;
- б) промышленность;
- в) строительство;
- г) машиностроение;
- д) торговля;
- е) сельское хозяйство.

3. Соедини стрелками название признака и название вида экономики.

продажа продуктов питания

СТРОИТЕЛЬСТВО

выращивание домашних животных

СЕЛЬСКОЕ
ХОЗЯЙСТВО

сооружение домов, фабрик,
заводов

ТОРГОВЛЯ

4. Что относится к продукции промышленности? Вычеркни лишнее.

Велосипед, обувь, часы, морковь, телевизор, книга.

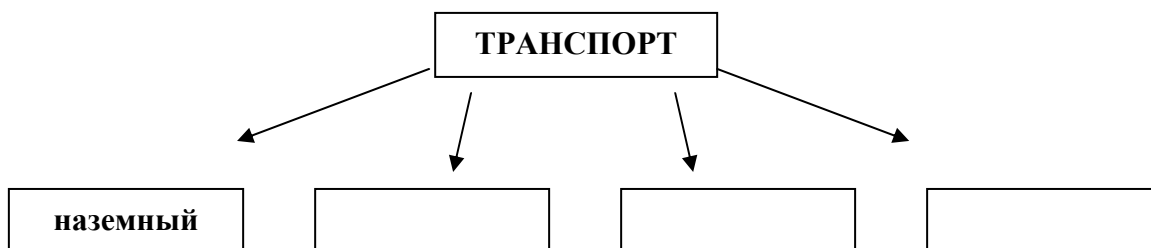
5. Что изображали на монетах? Дополни предложение.

На монетах изображали богов, _____, _____, _____.

Тесты к разделу «Жизнь города и села»
ТЕСТ №8
ТЕМА: «КАКОЙ БЫВАЕТ ТРАНСПОРТ?»
ВАРИАНТ 1

ФАМИЛИЯ, ИМЯ _____

1. Что такое экономика? Обведи нужную букву.



2. К какой группе относятся перечисленные виды транспорта? Допиши предложение. Вычеркни лишнее.

- Самолёт, вертолёт, воздушный шар, катер, аэроплан – это _____

3. Подчеркни одной чертой пассажирский транспорт, двумя чертами – грузовой, волнистой линией – специальный.

пожарная машина

грузовик

троллейбус

поезд в метро

4. Какую специальную машину можно вызвать по телефону 02? Обведи нужную букву.

а) милиция;

б) пожарная машина;

в) скорая помощь.

5. Соедини стрелками название вида транспорта и название группы.

ЛИЧНЫЙ ТРАНСПОРТ

ОБЩЕСТВЕННЫЙ ТРАНСПОРТ

автобус

Жигули (легковой автомобиль)

пассажирский поезд

троллейбус

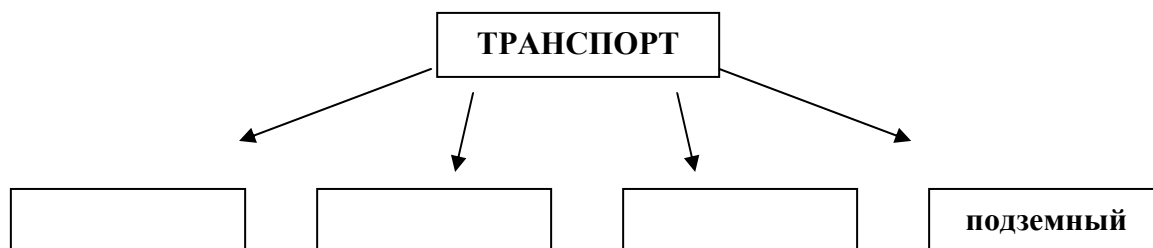
метро

москвич (легковой автомобиль)

Тесты к разделу «Жизнь города и села»
ТЕСТ №8
ТЕМА: «КАКОЙ БЫВАЕТ ТРАНСПОРТ?»
ВАРИАНТ 2

ФАМИЛИЯ, ИМЯ _____

1. Что такое экономика? Обведи нужную букву.



2. К какой группе относятся перечисленные виды транспорта? Допиши предложение. Вычеркни лишнее.

- Автобус, троллейбус, трамвай, самолёт, поезд – это _____

3. Подчеркни одной чертой пассажирский транспорт, двумя чертами – грузовой, волнистой линией – специальный.

автобус

машина скорой помощи

самосвал

трамвай

4. Какую специальную машину можно вызвать по телефону 03? Обведи нужную букву.

а) пожарная машина;

б) скорая помощь;

в) милиция.

5. Соедини стрелками название вида транспорта и название группы.

ЛИЧНЫЙ ТРАНСПОРТ

ОБЩЕСТВЕННЫЙ ТРАНСПОРТ

трамвай

волга (легковой автомобиль)

самолёт

метро

теплоход

пожарная машина

Тесты к разделу «Жизнь города и села»

ТЕСТ №9

ТЕМА: «ВСЕ ПРОФЕССИИ ВАЖНЫ»

ВАРИАНТ 1

ФАМИЛИЯ, ИМЯ _____

- 1. Кто в ряду «чужой»? Вычеркни его. Назови одним словом оставшиеся тела. Допиши предложение.**

Маляр, сталевар, шофер, повар, самосвал, агроном, продавец – это _____

- 2. Запиши названия профессий, которые связаны с транспортом.**

Пилот, _____, _____, _____, _____.

- 3. Кто что делает? Соедини стрелками.**

Кто пишет книги?	врач
Кто лечит людей?	артист
Кто печёт хлеб?	писатель
Кто выступает в цирке?	водитель
Кто водит такси?	пекарь

- 4. Отгадай загадку. Напиши отгадку.**

Скажи, кто так вкусно
Готовит щи капустные,
Пахучие котлеты,
Салаты, винегреты,
Все завтраки, обеды?

(.)

- 5. Обведи кружком все буквы правильных ответов. Учитель пользуется:**

- а) картой;
- б) доской;
- в) кастрюлей;
- г) мелом;
- д) указкой.

Тесты к разделу «Жизнь города и села»

ТЕСТ №9

ТЕМА: «ВСЕ ПРОФЕССИИ ВАЖНЫ»

ВАРИАНТ 2

ФАМИЛИЯ, ИМЯ _____

- 1. Кто в ряду «чужой»? Вычеркни его. Назови одним словом оставшиеся тела. Допиши предложение.**

Шахтёр, врач, воспитатель, кирпич, ткачиха, артист, пчеловод – это _____

- 2. Запиши названия профессий, которые связаны со строительством.**

Каменщик, _____, _____, _____, _____.

- 3. Кто что делает? Соедини стрелками.**

Кто изучает природу?	повар
Кто лечит животных?	учитель
Кто варит еду?	ветеринар
Кто учит детей?	продавец
Кто продает товары?	учёный

- 4. Отгадай загадку. Напиши отгадку.**

Кто у постели больного сидит?
И как лечится, он всем говорит;
Кто болен – он капли предложит принять,
Тому, кто здоров, - разрешит погулять.

(.)

- 5. Обведи кружком все буквы правильных ответов. Швея пользуется:**

- а) тканью;
- б) иголкой;
- в) термометром;
- г) ножницами;
- д) нитками.

Тесты к разделу «Жизнь города и села»

ТЕСТ №10

ТЕМА: «В ГОСТИ К ЗИМЕ»

ВАРИАНТ 1

ФАМИЛИЯ, ИМЯ _____

1. Какие зимние явления происходят в неживой природе? Вычеркни лишнее.

Изморозь, гололедица, ледоход, оттепель.

2. О каком зимнем явлении идет речь? Допиши предложение.

Снег подтаивает, становится влажным и легко лепится – это _____

3. Кто впадает в зимнюю спячку? Обведи нужную букву.

- а) волк;
- б) лось;
- в) кабан;
- г) ёж.

4. Какие птицы зимующие? Обведи нужную букву.

- а) грач, сойка, соловей;
- б) клёст, воробей, голубь;
- в) скворец, ворона, ласточка.

5. Почему многие птицы зимой держатся ближе к жилью человека? Обведи нужную букву.

- а) здесь можно погреться;
- б) здесь проще отыскать корм;
- в) здесь можно пообщаться с людьми.

6. Какие животные меняют окраску к зиме? Подчеркни.

Белка, медведь, лиса, заяц, лось.

Тесты к разделу «Жизнь города и села»

ТЕСТ №10

ТЕМА: «В ГОСТИ К ЗИМЕ»

ВАРИАНТ 2

ФАМИЛИЯ, ИМЯ _____

1. Какие зимние явления происходят в неживой природе? Вычеркни лишнее.

Метель, снегопад, гололедица, листопад.

2. О каком зимнем явлении идет речь? Допиши предложение.

На деревьях и проводах образуется пушистая снежная бахрома – это _____

3. Кто не впадает в зимнюю спячку? Обведи нужную букву.

а) медведь;

б) ёж;

в) белка;

г) барсук.

4. Какие птицы зимующие? Обведи нужную букву.

а) чайка, синица, грач;

б) поползень, сорока, свиристель;

в) чиж, скворец, кукушка.

5. Как люди должны помогать птицам выжить зимой? Обведи нужную букву.

а) строить для них гнёзда;

б) помещать их в специальные жилища;

в) подкармливать их.

6. Какое хвойное растение зимует без листьев – хвоинок? Подчеркни.

Сосна, лиственница, ель, можжевельник.

Тесты к разделу «Здоровье и безопасность»

ТЕСТ №11

ТЕМА: «СТРОЕНИЕ ТЕЛА ЧЕЛОВЕКА»

ВАРИАНТ 1

ФАМИЛИЯ, ИМЯ _____

1. Допиши предложение.

Голова, шея, туловище, руки, ноги – это _____

2. Установи стрелками соответствие.

ЧАСТИ ТЕЛА	голова
	сердце
	мозг
	шея
ОРГАНЫ	туловище
	легкие
	конечности

3. С помощью какого органа дышит человек? Обведи нужную букву.

- а) мозг;
- б) легкие;
- в) сердце;
- г) желудок.

4. Какой орган непрерывно гонит в сосуды кровь и заставляет её обегать всё тело?

Обведи нужную букву.

- а) легкие;
- б) сердце;
- в) желудок;
- г) кишечник;

5. В каком ряду дан правильный порядок расположения органов пищеварения?

Обведи нужную букву.

- а) кишечник – рот – желудок – пищевод – прямая кишка;
- б) рот – зубы – пищевод – желудок – кишечник – прямая кишка;
- в) желудок – рот – зубы – кишечник – прямая кишка.

Тесты к разделу «Здоровье и безопасность»

ТЕСТ №11

ТЕМА: «СТРОЕНИЕ ТЕЛА ЧЕЛОВЕКА»

ВАРИАНТ 2

ФАМИЛИЯ, ИМЯ _____

1. Допиши предложение.

Головной мозг, легкие, сердце, желудок, печень, кишечник – это _____

2. Установи стрелками соответствие.

ЧАСТИ ТЕЛА	туловище
	конечности
	мозг
	сердце
ОРГАНЫ	шея
	легкие
	голова

3. Что является главным отделением «внутренней кухни»? Обведи нужную букву.

- а) желудок;
- б) легкие;
- в) мозг;
- г) печень.

4. Какой орган управляет работой всего организма? Обведи нужную букву.

- а) сердце;
- б) мозг;
- в) кишечник;
- г) желудок.

5. В каком ряду дан правильный порядок расположения органов дыхания? Обведи нужную букву.

- а) бронхи – нос – легкие - трахея;
- б) нос – трахея – бронхи - легкие;
- в) легкие – бронхи – трахея – нос.

Тесты к разделу «Здоровье и безопасность»

ТЕСТ №12

ТЕМА: «ДОМАШНИЕ ОПАСНОСТИ»

ВАРИАНТ 1

ФАМИЛИЯ, ИМЯ _____

1. Подчеркни номер телефона, по которому вызывают пожарных.

01; 02; 03; 04

2. Соедини линиями предметы и опасности, которые они могут принести.

стул, табурет

ожог

лекарства

падение

чайник, сковорода

удар электрическим током

соковыжималка, кофемолка

отравление

выключатель, розетка

повреждение пальцев

3. Какие правила безопасности нужно соблюдать? Допиши предложение.

- К выключателю, розетке, электрическим приборам нельзя

- Из домашней аптечки нельзя _____

4. Отгадай загадку. Запиши отгадку.

Я не хвастая, скажу:

Всех друзей омоложу!

Идут ко мне унылые –

С морщинками, со складками,

Уходят очень милые –

Весёлые и гладкие!

(. . . .)

5. Как нужно обращаться с этим электроприбором? Обведи нужную букву.

а) проверить, устойчив ли он;

б) брать только за ручку;

в) брать кухонным полотенцем;

г) никогда к нему не прикасаться.

Тесты к разделу «Здоровье и безопасность»

ТЕСТ №12

ТЕМА: «ДОМАШНИЕ ОПАСНОСТИ»

ВАРИАНТ 2

ФАМИЛИЯ, ИМЯ _____

1. Подчеркни номер телефона, по которому вызывают скорую помощь.
01; 02; 03; 04

2. Соедини линиями предметы и опасности, которые они могут принести.

оголѐнный провод	отравление
окно, балкон	повреждение пальцев
утюг, чайник	падение
мясорубка	удар электрическим током
уксус	ожог

3. Какие правила безопасности нужно соблюдать? Допиши предложение.

- В электрическую мясорубку, соковыжималку, кофемолку нельзя _____.
- Глядя из окна или с балкона нельзя _____.

4. Отгадай загадку. Запиши отгадку.

На голове пуговка,
В носу решето,
Одна рука,
Да и та на спине

(.)

5. Как нужно обращаться с этим прибором? Обведи нужную букву.

- а) проверить, устойчив ли он;
- б) не засовывать туда пальцы;
- в) брать кухонным полотенцем;
- г) никогда к нему не прикасаться.

Тесты к разделу «Здоровье и безопасность»

ТЕСТ №13

ТЕМА: «ДОМАШНИЕ ОПАСНОСТИ»

ВАРИАНТ 1

ФАМИЛИЯ, ИМЯ _____

1. Подчеркни названия съедобных грибов одной чертой, двумя чертами названия несъедобных грибов.

подосиновик

боровик

мухомор

бледная поганка

сыроежки

груздь

2. Загадка. Узнай по описанию.

Стоит на полянке

В красном платье Татьяна:

Вся в белых крапинках. (.)

3. Установи стрелками соответствие растений.

**СЪЕДОБНЫЕ ЛЕСНЫЕ
ЯГОДЫ**

**ЯДОВИТЫЕ ЛЕСНЫЕ
ЯГОДЫ**

земляника

вороний глаз

шиповник

костяника

волчье лыко

малина

клюква

4. Какие насекомые относятся к жалящим? Обведи кружком все буквы правильных ответов.

а) оса;

б) комар;

в) пчела;

г) бабочка;

д) шершень.

5. Почему жалящие насекомые нападают на человека? Обведи нужную букву.

а) в порядке самозащиты;

б) хотят есть;

в) разносят заболевания;

г) хотят нанести вред.

Тесты к разделу «Здоровье и безопасность»

ТЕСТ №13

ТЕМА: «ДОМАШНИЕ ОПАСНОСТИ»

ВАРИАНТ 2

ФАМИЛИЯ, ИМЯ _____

1. Подчеркни названия съедобных грибов одной чертой, двумя чертами названия несъедобных грибов.

бледная поганка	опята
маслёнок	подберёзовик
лисички	мухомор

2. Загадка. Узнай по описанию.

Я родился в день дождливый
Под осиной молодой,
Круглый, гладенький, красивый,
С ножкой толстой и прямой (.)

3. Установи стрелками соответствие растений.

**СЪЕДОБНЫЕ ЛЕСНЫЕ
ЯГОДЫ**

**ЯДОВИТЫЕ ЛЕСНЫЕ
ЯГОДЫ**

малина
ежевика
клюква
земляника
волчье лыко
вишня
вороний глаз

4. Какие насекомые относятся к жалящим? Обведи кружком все буквы правильных ответов.

- а) кузнечик;
- б) шмель;
- в) пчела;
- г) стрекоза;
- д) шершень.

5. Как предотвратить укус жалящего насекомого? Обведи нужные буквы.

- а) держаться подальше;
- б) стараться убить;
- в) стараться не тревожить;
- г) дождаться пока вылетит в окно.

Тесты к разделу «Общение»
ТЕСТ №14
ТЕМА: «ПРАВИЛА ВЕЖЛИВОСТИ»
ВАРИАНТ 1

ФАМИЛИЯ, ИМЯ _____

1. Какие слова являются вежливыми? Вычеркни лишнее.

Спасибо, здравствуйте, хорошо, благодарю.

2. Укажи стрелками, в каких случаях используют эти слова.

«Здравствуйте!»

благодарность

«Счастливого пути!»

извинение

«Простите!»

приветствие

«Спасибо!»

прощание

3. Какими словами можно заменить слово «здравствуйте»? Обведи нужные буквы.

- а) привет;
- б) добрый день;
- в) доброе утро;
- г) пожалуйста.

4. Выходя из-за стола, Саша сказал: «Было очень вкусно». Какое слово забыл сказать мальчик? Подчеркни.

Извините, пожалуйста, здравствуйте, спасибо.

5. Запиши цифрами порядок разговора по телефону.

прощание

объяснение цели своего звонка

«алло»

приветствие

благодарность

ТЕСТ №14
ТЕМА: «ПРАВИЛА ВЕЖЛИВОСТИ»
ВАРИАНТ 2

ФАМИЛИЯ, ИМЯ _____

1. Какие слова являются вежливыми? Вычеркни лишнее.

До свидания, извините, уйдите, пожалуйста.

2. Укажи стрелками, в каких случаях используют эти слова.

«Пожалуйста!»

приветствие

«Извините!»

прощание

«Добрый день!»

просьба

«До свидания!»

извинение

3. Какими словами можно заменить слово «до свидания»? Обведи нужные буквы.

- а) до встречи
- б) привет
- в) до завтра
- г) пока

4. Обращаясь к продавцу, Ира сказала: «Булку хлеба и две булочки». Какое слово забыла сказать девочка? Подчеркни.

Спасибо, пожалуйста, добрый день, извините.

5. Запиши цифрами порядок разговора по телефону.

- объяснение цели своего звонка
- благодарность
- приветствие
- прощание
- «алло»

Тесты к разделу «Путешествия»
ТЕСТ №15
ТЕМА: «ДЛЯ ЧЕГО НУЖЕН КОМПАС?»
ВАРИАНТ 1

ФАМИЛИЯ, ИМЯ _____

1. Допиши предложение.

Земная поверхность, которую мы видим вокруг себя, называется _____

2. Какую форму имеет линия горизонта на открытом месте? Обведи нужную букву.

- а) дуги;
- б) прямой линии;
- в) волны;
- г) ломаной.

3. Какой прибор применяют для определения сторон горизонта? Подчеркни.

Термометр, рулетка, компас, часы.

4. Из каких частей состоит компас? Обведи кружком все буквы правильных ответов.

- а) предохранитель;
- б) батарейка;
- в) корпус;
- г) магнитная стрелка.

5. Установи стрелками соответствие.

**ОСНОВНЫЕ СТОРОНЫ
ГОРИЗОНТА**

**ПРОМЕЖУТОЧНЫЕ
СТОРОНЫ ГОРИЗОНТА**

юг

северо-восток

юго-запад

восток

север

6. Как еще можно определить стороны горизонта? Обведи кружком буквы правильных ответов.

- а) по Полярной звезде;
- б) по Луне;
- в) по Солнцу;
- г) по знаку зодиака.

Тесты к разделу «Путешествия»
ТЕСТ №15
ТЕМА: «ДЛЯ ЧЕГО НУЖЕН КОМПАС?»
ВАРИАНТ 2

ФАМИЛИЯ, ИМЯ _____

1. Допиши предложение.

Линия видимого соединения неба с земной поверхностью, называется _____

2. Что происходит с горизонтом при подъёме вверх? Обведи нужную букву.

- а) уменьшается;
- б) розовеет;
- в) расширяется;
- г) синеет.

3. Какой прибор применяют для определения сторон горизонта? Подчеркни.

Барометр, линейка, компас, термометр.

4. Из каких частей состоит компас? Обведи кружком все буквы правильных ответов.

- а) стеклянная трубка;
- б) предохранитель;
- в) магнитная стрелка;
- г) корпус.

5. Установи стрелками соответствие.

**ОСНОВНЫЕ СТОРОНЫ
ГОРИЗОНТА**

**ПРОМЕЖУТОЧНЫЕ
СТОРОНЫ ГОРИЗОНТА**

запад
север
юго-восток
северо-запад
юг

6. По каким местным природным признакам можно определить стороны горизонта? Обведи кружком буквы правильных ответов.

- а) по муравейнику;
- б) по оврагу;
- в) по мху на пне или камне;
- г) по отдельно стоящему дереву.

Тесты к разделу «Путешествия»

ТЕСТ №16

ТЕМА: «ФОРМЫ ЗЕМНОЙ ПОВЕРХНОСТИ»

ВАРИАНТ 1

ФАМИЛИЯ, ИМЯ _____

1. Что относится к основным формам земной поверхности. Обведи кружками все буквы правильных ответов.

- а) углубления;
- б) горы;
- в) равнины;
- г) холмы.

2. Допиши предложение.

Очень неровные участки земной поверхности, которые сильно возвышаются над окружающей местностью – это _____.

3. Как называются возвышения, которые можно встретить на равнинах? Обведи нужную букву.

- а) холмы;
- б) горные хребты;
- в) овраги;
- г) углубления.

4. Из каких частей состоит холм? Вычеркни лишнее.

Вершина, обрыв, склон, подошва.

5. Как называется самая высокая часть холма? Обведи нужную букву.

- а) подошва;
- б) вершина;
- в) склон.

***6. Каким цветом на карте окрашены равнины. Обведи нужную букву.**

- а) голубым;
- б) коричневым;
- в) зелёным и жёлтым.

Тесты к разделу «Путешествия»

ТЕСТ №16

ТЕМА: «ФОРМЫ ЗЕМНОЙ ПОВЕРХНОСТИ»

ВАРИАНТ 2

ФАМИЛИЯ, ИМЯ _____

1. Что относится к основным формам земной поверхности. Обведи кружками все буквы правильных ответов.

- а) горы;
- б) овраги;
- в) равнины;
- г) холмы;

2. Допиши предложение.

Ровные, или почти ровные участки земной поверхности – это _____.

3. Как называются углубления с крутыми склонами, которые можно встретить на равнинах? Обведи нужную букву.

- а) склон;
- б) холмы;
- в) овраги;
- г) горные хребты;

4. Из каких частей состоит гора? Обведи нужную букву.

- а) вершина;
- б) склон;
- в) хребет;
- г) подошва.

5. Как называется место, где начинается гора? Обведи нужную букву.

- а) склон;
- б) вершина;
- в) подошва.

***6. Каким цветом на карте окрашены горы. Обведи нужную букву.**

- а) зелёным;
- б) коричневым;
- в) жёлтым.

Тесты к разделу «Путешествия»

ТЕСТ №18

ТЕМА: «В ГОСТИ К ВЕСНЕ»

ВАРИАНТ 1

ФАМИЛИЯ, ИМЯ _____

1. Какие весенние явления происходят в неживой природе? Вычеркни лишнее.

Таяние снега, изморозь, ледоход, гроза.

2. О каком весеннем явлении идёт речь? Допиши предложение.

Большие и маленькие льдины быстро плывут по течению, сталкиваются и разбиваются – это _____.

3. Какие растения раннецветущие? Обведи кружком все буквы правильных ответов.

- а) хохлатка;
- б) медуница;
- в) тополь;
- г) верба;
- д) одуванчик.

4. Какие изменения весной происходят в жизни птиц? Обведи кружком все буквы правильных ответов.

- а) прилетают из жарких стран;
- б) вьют гнёзда;
- в) отдыхают;
- г) выводят птенцов.

5. Выбери приметку, не относящуюся к весне.

- а) воздух становится день ото дня всё теплее;
- б) солнце поднимается всё выше и выше;
- в) появляются первоцветы;
- г) животные ложатся в спячку;
- д) появляются насекомые;

Тесты к разделу «Путешествия»

ТЕСТ №18

ТЕМА: «В ГОСТИ К ВЕСНЕ»

ВАРИАНТ 2

ФАМИЛИЯ, ИМЯ _____

1. Какие весенние явления происходят в неживой природе? Вычеркни лишнее.
Ледоход, таяние снега, половодье, метель.

2. О каком весеннем явлении идёт речь? Допиши предложение.

От растаявшего снега и льда река переполняется водой и выходит из берегов – это _____.

3. Какие растения раннецветущие? Обведи кружком все буквы правильных ответов.

- а) мать-и-мачеха;
- б) рябина;
- в) чистяк весенний;
- г) ольха;
- д) ландыш.

4. Какие изменения весной происходят в жизни зверей? Обведи кружком все буквы правильных ответов.

- а) линяют;
- б) рожают детёнышей;
- в) начинают петь;
- г) продолжают спать.

5. Выбери приметку, не относящуюся к весне.

- а) дни становятся длиннее;
- б) солнце поднимается всё выше и выше;
- в) появляются насекомые;
- г) улетают в теплые края перелетные птицы;
- д) зацветают растения;

Тесты к разделу «Путешествия»

ТЕСТ №17

ТЕМА: «ВОДОЁМЫ»

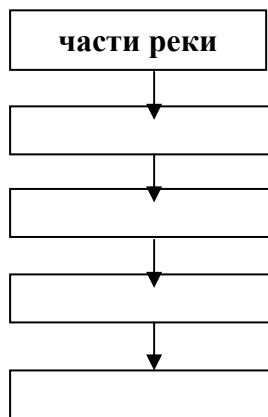
ВАРИАНТ 1

ФАМИЛИЯ, ИМЯ _____

1. Что является водоёмом? Обведи кружком все буквы правильных ответов.

- а) река;
- б) пруд;
- в) равнина;
- г) море;
- д) озеро.

2. Какие части имеет река? Заполните схему.



3. Напиши, как называются эти части реки.

- Место, где река впадает в другой водоём – это _____.
- Слева и справа у реки – это _____.

4. Как определить берег реки?

- а) надо встать лицом на север;
- б) надо встать лицом против её течения;
- в) надо встать лицом по направлению её течения.

5. Какие водоёмы относятся к естественным? Вычеркни лишнее.

Река, океан, канал, озеро, болото.

***6. Напиши по одному – два примера водоёмов края, где ты живешь?**

Озёра _____

Каналы _____

Тесты к разделу «Путешествия»

ТЕСТ №17

ТЕМА: «ВОДОЁМЫ»

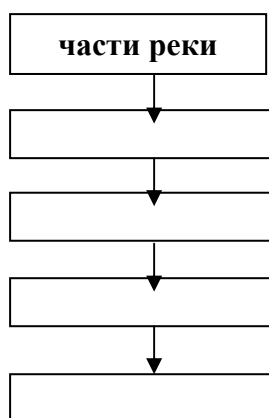
ВАРИАНТ 2

ФАМИЛИЯ, ИМЯ _____

1. Что является водоёмом? Обведи кружком все буквы правильных ответов.

- а) ручей;
- б) болото;
- в) озеро;
- г) овраг;
- д) океан.

2. Какие части имеет река? Заполните схему.



3. Напиши, как называются эти части реки.

- Начало реки – это _____.
- Углубление, по которому течёт река – это _____.

4. Что такое родник? Обведи нужную букву.

- а) это выкопанное людьми углубление в земле;
- б) это поток воды по поверхности земли;
- в) это выход на поверхность земли подземных вод.

5. Какие водоёмы относятся к искусственным? Вычеркни лишнее.

Пруд, водохранилище, канал, озеро.

***6. Напиши по одному – два примера водоёмов края, где ты живешь?**

Реки _____

Водоохранилища _____

Тесты к разделу «Путешествия»

ТЕСТ №20

ТЕМА: «ВПЕРЕДИ ЛЕТО»

ВАРИАНТ 1

ФАМИЛИЯ, ИМЯ _____

1. Запиши цифрами порядок летних месяцев:

июль

август

июнь

2. Как летом солнце поднимается над горизонтом по сравнению с весной? Обведи нужную букву.

- а) ниже, чем весной;
- б) так же, как весной;
- в) выше, чем весной.

3. Какие основные летние изменения происходят в неживой природе? Обведи буквы правильных ответов.

- а) таяние снега;
- б) осадки в виде дождя;
- в) оттепель;
- д) солнце жарко светит.

4. Какие основные летние изменения происходят в живой природе. Обведи буквы правильных ответов.

- а) листопад;
- б) появление грибов;
- в) появление насекомых;
- г) подрастание птенцов;
- д) цветение трав;

5. Каких насекомых можно встретить летом. Напиши.

_____ , _____ , _____ ,

_____ , _____ , _____ .

Тесты к разделу «Путешествия»

ТЕСТ №20

ТЕМА: «ВПЕРЕДИ ЛЕТО»

ВАРИАНТ 2

ФАМИЛИЯ, ИМЯ _____

1. Запиши по порядку следующие за летом времени на года:

Лето, _____, _____, _____

2. Обведи кружком букву правильного ответа.

Летом:

- а) день становится длиннее;
- б) солнце встает позже;
- в) ночь становится длиннее.

3. Какие основные летние изменения происходят в неживой природе? Обведи буквы правильных ответов.

- а) жаркая погода;
- б) ледоход;
- в) похолодание;
- д) грозы и ливни.

4. Какие основные летние изменения происходят в живой природе. Обведи буквы правильных ответов.

- а) цветение трав;
- б) набухание почек;
- в) созревание плодов;
- г) появление грибов;
- д) подрастание детёнышей.

5. Каких насекомых можно встретить летом. Напиши.

_____ , _____ , _____ ,

_____ , _____ , _____ .

Тесты к разделу «Природа»

ТЕСТ №2

ТЕМА: «КАК ИЗМЕРЯЮТ ТЕМПЕРАТУРУ?»

ВАРИАНТ 1

ФАМИЛИЯ, ИМЯ _____

1. Что такое термометр?

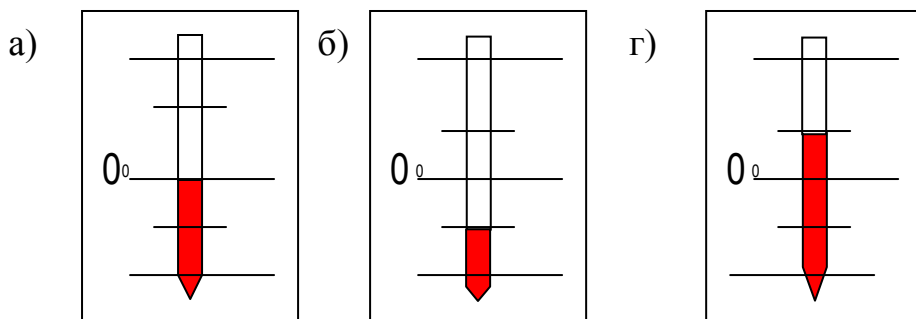
- а) прибор для определения давления;
- б) прибор для определения температуры;
- в) прибор для определения скорости движения;
- г) прибор для определения высоты полёта.

2. Каким термометром определяют температуру тела человека? Вычеркни лишнее. МЕДИЦИНСКИЙ, УЛИЧНЫЙ, КОМНАТНЫЙ, ВОДНЫЙ

3. От какой точки на шкале термометра нужно отсчитывать температуру? Обведи нужную букву.

- а) от самого нижнего деления;
- б) от деления, на котором стоит 0°C ;
- в) от верхнего деления до границы жидкости в трубочке термометра.

4. Какой термометр показывает градусы тепла? Обведи нужную букву.



5. При какой температуре бывает холодней всего?

Подчеркни нужную цифру.

$+2^{\circ} - +1^{\circ}$, $-5^{\circ} - -9^{\circ}$, $-1^{\circ} - 0^{\circ}$, $+10^{\circ} - +9^{\circ}$, $-25^{\circ} - -12^{\circ}$

* 6. Чем опасен медицинский термометр? Обведи нужную букву.

- а) из-за него бывает очень высокая температура;
- б) его трубочка наполнена ядовитой ртутью;
- в) он сделан из стекла, если разобьется, то осколками можно порезаться;
- г) ртуть может вылиться из разбитого термометра и ею можно отравиться.

Тесты к разделу «Природа»

ТЕСТ №2

ТЕМА: «КАК ИЗМЕРЯЮТ ТЕМПЕРАТУРУ?»

ВАРИАНТ 2

ФАМИЛИЯ, ИМЯ _____

1. Чем измеряют температуру?

- а) барометром;
- б) линейкой;
- в) термометром;
- г) градусником.

2. Каким термометром определяют температуру воды?

Вычеркни лишнее.

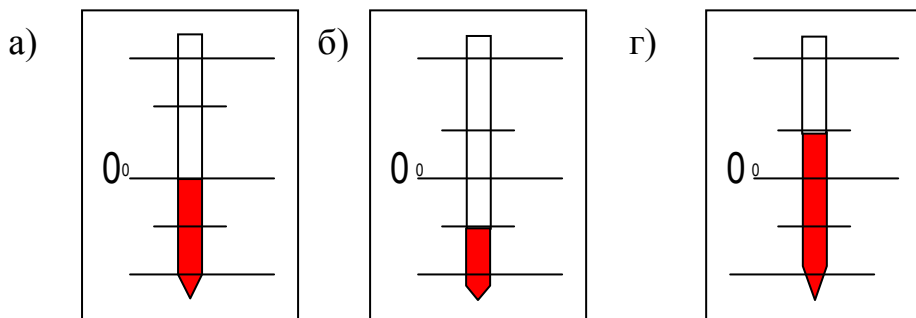
МЕДИЦИНСКИЙ, УЛИЧНЫЙ, КОМНАТНЫЙ, ВОДНЫЙ

3. Что обозначает ноль градусов на шкале термометра?

Обведи нужную букву.

- а) самая низкая температура воздуха;
- б) граница между зимой и весной;
- в) граница между градусами тепла и холода.

4. Какой термометр показывает градусы холода? Обведи нужную букву.



5. При какой температуре бывает теплее всего?

Подчеркни нужную цифру.

-6° – -12° , 0° – -1° , $+3^{\circ}$ – $+10^{\circ}$, $+6^{\circ}$ – $+12^{\circ}$, $+15^{\circ}$ – $+13^{\circ}$

* 6. Чем опасен медицинский термометр? Обведи нужную букву.

- а) из-за него бывает очень высокая температура;
- б) его трубочка наполнена ядовитой ртутью;
- в) он сделан из стекла, если разобьется, то осколками можно порезаться;
- г) ртуть может вылиться из разбитого термометра и ею можно отравиться.

Тесты к разделу «Путешествия»

ТЕСТ №19

**ТЕМА: ЧТО ТАКОЕ КАРТА И КАК ЕЕ ЧИТАТЬ?
ВАРИАНТ 1**

ФАМИЛИЯ, ИМЯ _____

1. Что такое карта? Обведи нужную букву.

- а) уменьшенное изображение земной поверхности на плоскости;
- б) рисунок земной поверхности в уменьшенном виде.

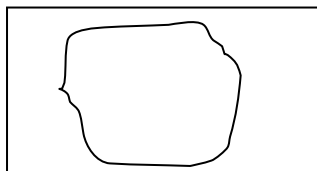
2. Где на карте находится запад? Обведи нужную букву.

- а) вверху;
- б) внизу;
- в) слева;
- г) справа.

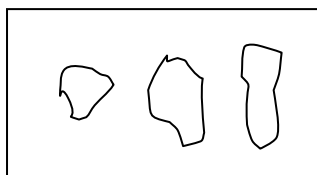
3. Что обозначают на карте различные цвета? Допиши предложения.

- Голубым цветом на карте обозначены _____.
- Зелёным цветом на карте обозначены _____.

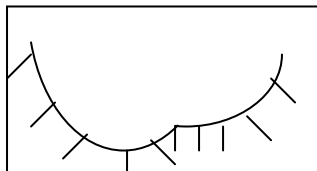
4. Что обозначают на карте эти условные знаки? Установи соответствие.



КАНАЛЫ



ОСТРОВА



ОЗЁРА

5. Как правильно показывать на стенной карте? Обведи нужные буквы.

- а) стой у карты справа;
- б) показывать рукой или пальцем;
- в) показывать не надпись, а сам объект;
- г) показывай аккуратно и точно, названия произноси чётко.

Тесты к разделу «Путешествия»

ТЕСТ №19

ТЕМА: ЧТО ТАКОЕ КАРТА И КАК ЕЕ ЧИТАТЬ?

ВАРИАНТ 2

ФАМИЛИЯ, ИМЯ _____

1. Как читать карту? Обведи нужную букву.

- а) читать все надписи;
- б) понимать условные знаки;

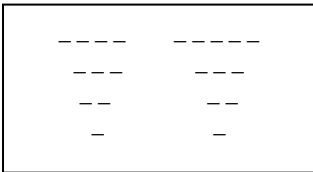
2. Где на карте находится восток. Обведи нужную букву.

- а) вверху;
- б) внизу;
- в) слева;
- г) справа.

3. Что обозначают на карте различные цвета?

- Коричневым цветом на карте обозначены _____.
- Желтым цветом на карте обозначены _____.

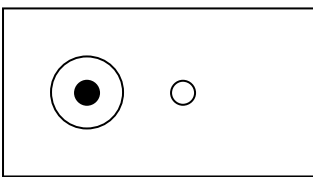
4. Что обозначают на карте эти условные знаки? Установи соответствие.



ГОРОДА



БОЛОТА



РЕКИ

5. Как показывать на стенной карте? Обведи нужные буквы.

- а) стой у карты справа;
- б) показывай только указкой;
- в) показывай все надписи;
- г) показывай аккуратно и точно, названия произноси чётко;